


A

B

C



Finde die Paare :13

Wie viele Paare hast du gefunden? \_\_\_\_\_



2 5 8 6 9 7 0 1 3 4 4 6 1 8  
 1 3 8 6 9 0 2 4 5 7 5 0 3 6  
 1 3 8 7 6 4 2 0 5 9 5 4 9 8  
 4 5 0 6 7 1 3 2 9 8 7 0 2 5

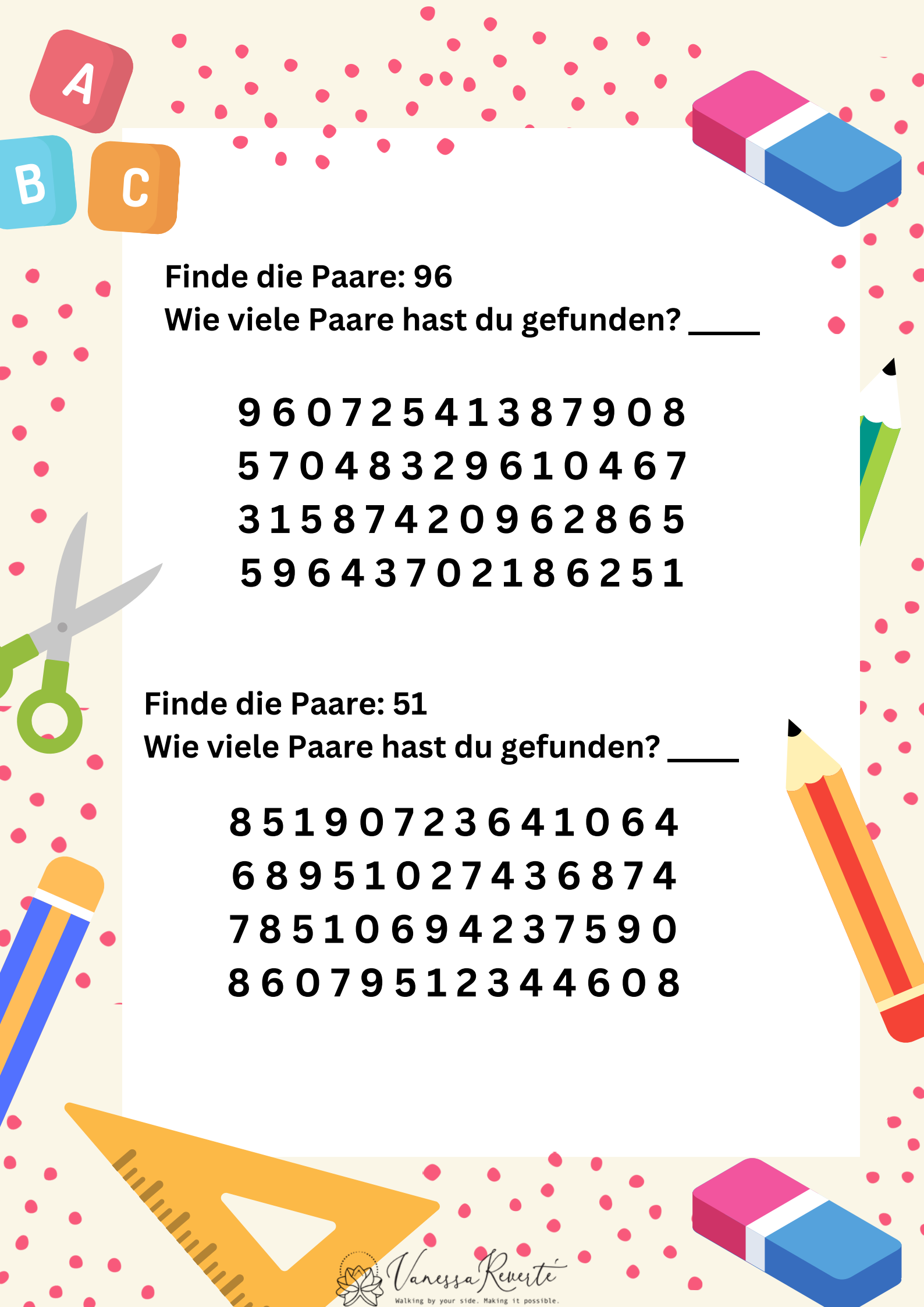


Finde die Paare :28

Wie viele Paare hast du gefunden? \_\_\_\_\_

4 0 2 8 6 5 3 9 7 1 1 8 3 9  
 5 2 8 4 0 9 7 1 6 3 9 1 7 8  
 7 2 8 1 3 9 0 6 4 5 9 4 6 8  
 3 0 7 4 9 2 8 5 6 1 4 5 7 6






A

B

C



**Finde die Paare: 96**

**Wie viele Paare hast du gefunden? \_\_\_\_\_**



9 6 0 7 2 5 4 1 3 8 7 9 0 8  
 5 7 0 4 8 3 2 9 6 1 0 4 6 7  
 3 1 5 8 7 4 2 0 9 6 2 8 6 5  
 5 9 6 4 3 7 0 2 1 8 6 2 5 1



**Finde die Paare: 51**

**Wie viele Paare hast du gefunden? \_\_\_\_\_**

8 5 1 9 0 7 2 3 6 4 1 0 6 4  
 6 8 9 5 1 0 2 7 4 3 6 8 7 4  
 7 8 5 1 0 6 9 4 2 3 7 5 9 0  
 8 6 0 7 9 5 1 2 3 4 4 6 0 8





**Finde die Paare: 35**

**Wie viele Paare hast du gefunden? \_\_\_\_\_**

5 1 3 5 7 3 8 4 6 5 7 9 3 5 6 3  
 5 8 1 3 9 2 3 7 5 6 9 3 5 2 7 5  
 8 3 9 5 4 6 3 7 9 5 4 2 5 1 7 6  
 4 9 5 8 1 9 7 3 6 3 5 4 1 9 8 2  
 6 7 8 5 9 3 2 5 7 2 7 5 5 3 1 0



**Finde die Paare: 42**

**Wie viele Paare hast du gefunden? \_\_\_\_\_**

4 2 7 6 3 4 9 1 2 4 3 8 1 5 4 7 3 9  
 6 3 9 2 5 4 7 8 5 2 6 7 1 6 7 3 2 1  
 9 4 6 3 6 5 4 3 1 5 8 7 6 4 7 8 3  
 8 5 9 6 7 2 4 8 2 4 7 1 5 8 2 3 6 7  
 4 1 9 8 2 6 7 8 5 9 3 2 5 7 2 7 4 2





**Finde die Paare: 57**

**Wie viele Paare hast du gefunden? \_\_\_\_\_**

5 1 3 5 7 3 8 4 6 5 7 9 3 5 6 3  
 5 8 1 3 9 2 3 7 5 6 9 3 5 2 7 5  
 8 3 9 5 4 6 3 7 9 5 4 2 5 1 7 6  
 4 9 5 8 1 9 7 3 6 3 5 4 1 9 8 2  
 6 7 8 5 9 3 2 5 7 2 7 5 5 3 1 0



**Finde die Paare: 23**

**Wie viele Paare hast du gefunden? \_\_\_\_\_**

1 4 2 3 6 3 4 9 1 2 4 3 8 1 5 4 7 3  
 9 6 3 9 2 3 5 4 7 8 5 2 6 7 1 6 7 3  
 2 1 9 4 6 3 6 5 4 3 1 5 2 3 7 6 4 7  
 8 3 2 8 5 9 6 2 8 2 4 7 3 2 1 5 8 2  
 3 6 7 4 1 9 8 2 6 7 8 5 9 3 2 5 7 2  
 4 5 3 2 2 3 5 1 2 4 5 9 7 4 2 3 3 4

